

## 2016年成人高考高起点地理考试真题及答案

一、选择题：本大题共 40 小题，每小题 2 分。共 80 分。在每小题给出的四个选项中只有一项是符合题目要求的。

1、春秋战国时期，各诸侯国相继进行改革，如齐国根据土地情况征税，鲁国按亩征税。这些改革的共同作用是（ ）

- A、 促使土地私有制的形成
- B、 减轻了封建地主的地租剥削
- C、 加强了奴隶主贵族的特权
- D、 促进了手工业的繁荣

答案： A

解析：此题暂无解析

2、秦统一六国后，颁布了一系列旨在加强中央集权的措施，其中属于文化方面的是（ ）

- A、 八股取士
- B、 独尊儒术
- C、 统一文字
- D、 推崇理学

答案： C

解析：此题暂无解析

3、北魏孝文帝下诏，官员在朝议时，三十岁以上者可使用鲜卑语，三十岁以下者应当“从正音（说汉话）”，否则“降爵黜官”。这一措施的实施（ ）

- A、 实现了语言的统一
- B、 有利于民族的融合
- C、 加剧了北魏内部矛盾
- D、 缓解了南北政治对峙

答案： B

解析：此题暂无解析

4、六部是隋唐至明清的中央行政机构，其中吏部的主要职责是主管（ ）

- A、 户口、赋税
- B、 国家礼仪
- C、 刑罚
- D、 官员任免和考核

答案： D

5、北宋改革科举考试程序，殿试成为定制，考试结果由皇帝直接掌握，进士及第者被称为“天子门生”。这一改革

- A、 有利于皇权的加强

- B、 减少了及第者名额
- C、 扩大了政权的基础
- D、 有利于相权的削弱

答案： A

解析：此题暂无解析

6、1662年，郑成功率领军队击败西方殖民者，台湾重新回到祖国的怀抱。这些殖民者来自（ ）

- A、 荷兰
- B、 葡萄牙
- C、 西班牙
- D、 英国

答案： A

解析：此题暂无解析

7、规定外国军舰和商船可以合法地在长江各口岸自由航行的不平等条约签订于（ ）

- A、 第一次鸦片战争时期
- B、 第二次鸦片战争时期
- C、 甲午战争时期
- D、 义和团运动时期

答案： B

解析：此题暂无解析

8、19世纪60年代洋务运动兴起，当时在中央的主要代表人物有（ ）

- A、 奕沂
- B、 曾国藩
- C、 左宗棠
- D、 李鸿章

答案： A

解析：此题暂无解析

9、19世纪，日本外务大臣曾说：在这笔赔款以前，日本财政部门全部收入只有八千万日元。所以，一想到现在有三亿五千万日元滚滚而来，无论政府或私人都顿觉无比的富裕。使日本获得该笔巨额赔款的条约是（ ）

- A、 《北京条约》
- B、 《天津条约》
- C、 《巨野名灼义
- D、 《南京条约》

答案： C

解析：此题暂无解析

10、在建立农村革命根据地过程中，毛泽东及时总结了井冈山斗争经验后指出，造成工农武装割据的必要条件是（

- A、 第一次国内革命战争的影响
- B、 有相当力量的正式红军存在
- C、 苏联的帮助与支持
- D、 土地改革的顺利进行

答案： B

解析：此题暂无解析

11、解放战争时期，由东北野战军和华北野战军共同发动的战役是（

- A、 渡江战役
- B、 辽沈战役
- C、 平津战役
- D、 淮海战役

答案： C

解析：此题暂无解析

12、我国第一个五年计划的完成初步奠定了社会主义工业化基础，属于这个时期的成就是（

- A、 原子弹研制成功
- B、 大庆油田
- C、 京九铁路
- D、 武汉长江大桥

答案： D

解析：此题暂无解析

13、中共八大对我国建设社会主义道路进行了一次成功探索，提出了许多富有创造性的方针和设想。这主要是由于（

- A、 正确分析了国内形势和主要矛盾
- B、 正确处理了人民内部矛盾
- C、 完成了思想路线的拨乱反正
- D、 开启了经济体制改革

答案： A

解析：此题暂无解析

14、新航路开辟后，从美洲传播到中国及世界各地的农作物有（

- A、 水稻
- B、 小麦
- C、 马铃薯
- D、 高粱

答案： C

解析：此题暂无解析

15、18 世纪英国诗人谢白写诗赞颂一位同时代的科学家：自然和自然法则隐藏在黑夜里，当上帝让他诞生后，从此一片光明。

这位科学家是（ ）

- A、 达·芬奇
- B、 哥白尼
- C、 伽利略
- D、 牛顿

答案：D

解析：此题暂无解析

16、法国大革命期间，吉伦特派掌权后推动革命进一步发展，采取的政策有（

- A、 处死国王，建立共和国
- B、 颁布法令，废除贵族等级
- C、 保证经济自由，废除内地关卡
- D、 实行经济统制，全面限制物价

答案：A

解析：此题暂无解析

17、20 世纪二三十年代，在斯大林领导下苏联的工业化建设取得巨大成就，表现在（

- A、 轻重工业协调快速发展
- B、 工业产值跃居世界第一
- C、 建立起比较完整的工业体系
- D、 带动了农业的高速发展

答案：C

解析：此题暂无解析

18、在第二次世界大战期间，反法西斯主要盟国多次举行会谈，协调行动，其中决定在欧洲开辟第二战场的会议是

（ ）

- A、 开罗会议
- B、 德黑兰会议
- C、 雅尔塔会议
- D、 波茨坦会议

答案：B

解析：此题暂无解析

19、1947年，美国总统杜鲁门借一次国际事件之机，发表咨文，提出杜鲁门主义，标志着“冷战”的爆发。这一国际事件是（ ）

- A、 苏台德事件
- B、 希腊土耳其危机
- C、 柏林事件
- D、 古巴导弹危机

答案： B

解析：此题暂无解析

20、“冷战”结束后，经济区域集团化的趋势加强，在众多区域经济合作组织中，使用了统一货币的是（ ）

- A、 亚太经合组织
- B、 北美自由贸易区
- C、 欧洲联盟
- D、 东南亚联盟

答案： C

解析：此题暂无解析

21、根据下面资料，回答 {TSE} 题

日常生活用品上有各式各样的图案。图 1 所示的枕头上印有世界地图图案。据此完成 21~22 题。



图 1

{TS} 在枕面地图图案中未能显示的大洲是（ ）

- A、 亚洲
- B、 欧洲
- C、 南极洲
- D、 非洲

答案： C

解析：此题暂无解析

22、在枕面地图图案中有两条纬线，其中实线示意赤道，虚线示意

- A、 北极圈
- B、 北回归线
- C、 南极圈
- D、 南回归线

答案： B

解析：此题暂无解析

{ TSE } 题

山前洪积扇，聚落多分布在扇缘和扇中部。读图完成 23~25 题。

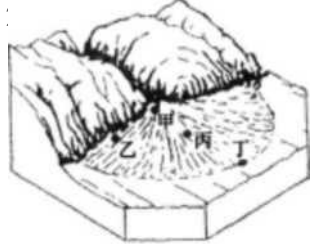


图 2

{ TS } 图示甲、乙、丙、丁四地，天然绿洲多形成于 (

- A、 甲地
- B、 乙地
- C、 丙地
- D、 丁地

答案：D

解析：此题暂无解析

24、芾哟该地区绿洲农业生产的主要因素是 (

- A、 热量
- B、 地形
- C、 水资源
- D、 土壤

答案：C

解析：此题暂无解析

25、实现该地区绿洲农业可持续发展，关键是要

- A、 治理水土流失
- B、 扩大开垦规模
- C、 防治荒漠化
- D、 改良作物品种

答案：C

解析：此题暂无解析

26、根据下面资料，回答 { TSE } 题

图 3 示意某地年内各月气温和降水量分布。读图完成 26~28 题。

{TS} 该地 6 月份的气温和降水量分别是 (

- A、 28X、 150 mm
- B、 30°C、 290 mm
- C、 31X、 385 mm
- D、 32X、 400 mm

答案： B

解析： 此题暂无解析

27、 该地天然植被景观是 (

- A、 温带草原
- B、 季雨林
- C、 针叶林
- D、 灌丛

答案： B

解析： 此题暂无解析

28、 该地可能是 (

- A、 加尔各答
- B、 巴西利亚
- C、 伊斯兰堡
- D、 乌兰巴托

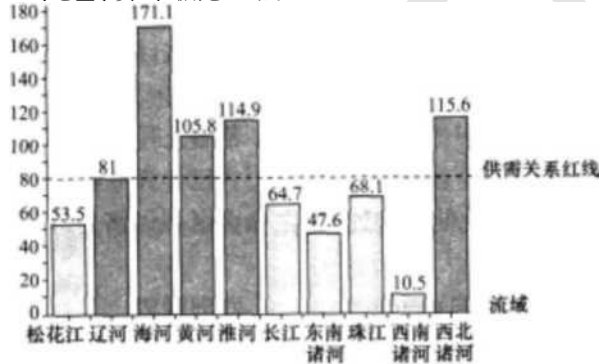
答案： A

解析： 此题暂无解析

29、 根据下面资料， 回答 {TSE} 题

用水总量与水资源可利用总量的比值， 可反映一个地区或流域水资源供需关系的紧张程度。 图 4 示意我国主要流域水资源供需关系。 据此完成 29~31 题。

用水总量/水资源可利用总量 × 100%



IH4

{TS} 水资源供需关系最紧张的流域是 (

- A、 珠江
- B、 黄河

D、淮河

答案：C

解析：此题暂无解析

30、据图示信息推断，水资源供需关系最紧张的城市是（

- A、 沈阳
- B、 天津
- C、 郑州
- D、 上海

答案：B

解析：此题暂无解析

31、解决华北地区水资源紧缺问题的有效措施是（ ）

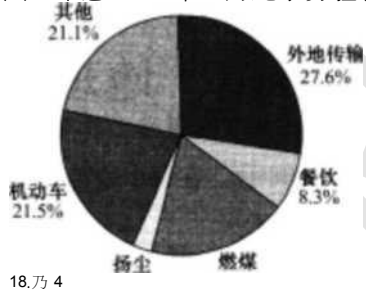
- A、 海水淡化
- B、 节水灌溉
- C、 开采地下水
- D、 南水北调

答案：D

解析：此题暂无解析

32、根据下面资料，回答{TSE}题

图5示意2013年1月北京雾霾PM<sub>10</sub>来源统计。读图完成32~34题。



[55

{丁\$}北京2013年冬季PM<sub>10</sub>来源中，占比重最大的是（

- A、 外地传输
- B、 机动车
- C、 建筑供暖
- D、 餐饮

答案：A

解析：此题暂无解析

33、在北京本地PM<sub>2.5</sub>来源中，占比重最大的是（

- A、 机动车



- B、 建筑施工
- C、 城市供暖
- D、 露天烧烤

答案： A

解析：此题暂无解析

34、 以下有可能加重北京冬季空气污染的是（

35、 根据下面资料，回答 { TSE } 题

图 6 示意我国西北地区某城市土地利用分区。读图完成 35~36 题。



- A、 寒潮侵袭
- B、 暴风雪
- C、 冷锋过境
- D、 低空大气形成逆温层

答案： D

解析：此题暂无解析

图 6

{ TS } 形成该城市空间形态的主导因素是（

- A、 地形
- B、 交通
- C、 气候
- D、 贸易

答案： A

解析：此题暂无解析

36、 当初规划该城市石化企业布局，考虑的主要因素是（

- A、 接近原料产地
- B、 土地供应充足，取水方便
- C、 交通便利
- D、 劳动力供应充足

答案： B

解析：此题暂无解析

37、 根据下面资料，回答 { TSE } 题

图 7 示意北半球局部区域地壳平均厚度分布。读图完成 37~38 题。



图 7

地壳厚度(千米) \* (单位: 千米)

{TS} 图中地壳厚度最大的地区是 ( )

- A、 青藏高原
- B、 阿尔卑斯山区
- C、 伊朗高原
- D、 蒙古高原

39、根据下面资料，回答 {TSE} 题

图 8 示意厦蓉欧国际货运班列(厦门—成都—波兰罗兹)路线。读图完成 39~40 题。

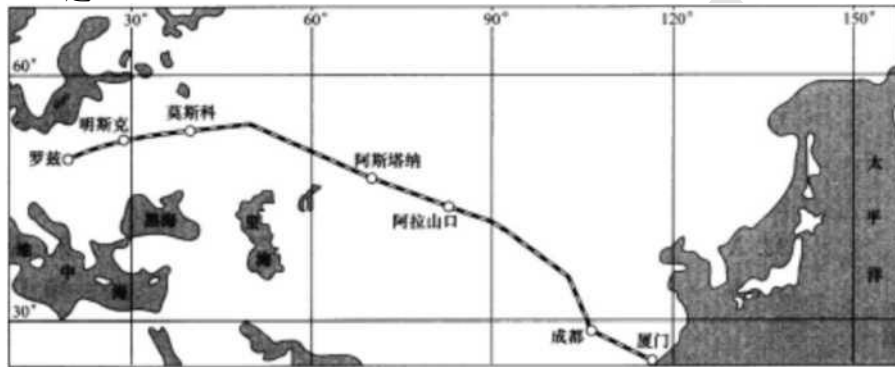


图 8

答案： A

解析：此题暂无解析

38、地壳厚度最大的地区处于 ( )

- A、 亚欧板块与太平洋板块挤压带
- B、 亚欧板块与印度洋板块挤压带
- C、 亚欧板块与美洲板块挤压带
- D、 太平洋板块与美洲板块挤压带

答案： B

解析：此题暂无解析

{TS} 与海洋运输相比，该货运班列的显著优势是 ( )

- A、 安全
- B、 运费低
- C、 省时
- D、 运量大

答案： C

解析：此题暂无解析

40、开通厦蓉欧国际货运班列的主要目的是 ( )

- A、 加快我国沿海地区产业升级
- B、 促进中国与欧洲之间文化交流
- C、 提高沿线国家就业率
- D、 扩大中国与欧洲之间贸易往来

答案：D

解析：此题暂无解析

## 二、非选择题：本大题共6小题，满分70分。

### 41、 回答问题。（12分）

概述明初加强中央集权的主要政治、军事措施。

答案要点：

政治：在中央，罢丞相，设内阁；行政权分属六部，直接对皇帝负责。在地方，改行中书省为承宣布政使司；设立提刑按察使司和都指挥使司；三司分立，互相牵制。

军事：将大都督府改为五军都督府；五军都督府和兵部互相制约。

### 42、 阅读材料，回答问题。（11分）

1935年，中共中央在一份决议中指出：党的策略路线，是在发动、团聚与组织全中国全民族一切革命力量去反对当前主要的敌人——日本帝国主义与卖国贼头子蒋介石。1937年4月，中央在另一份文件中又指出：国民党的政策已开始了转变，进入巩固国内和平准备对日抗战的阶段；在这个新阶段内我们必须坚持联蒋的方针，以准备全国性的对日抗战，只有同蒋介石南京政府共同合作抗日才是中华民族的出路。

——摘编自中央档案馆编《中共中央文件选集》

概括指出材料中反映的中国共产党对蒋策略的变化及其原因。

答案要点：

变化：由反蒋抗日到联蒋抗日。

原因：日本扩大侵华战争，中日民族矛盾已上升为主要矛盾；西安事变和平解决；国民党政策改变。

### 43、 阅读材料，回答问题。（12分）

美国1787年宪法第一、二、三条分别规定立法权属于由参议院和众议院组成的国会，行政权力赋予总统，司法权属于最高法院，还规定国会议员和总统均由选举产生，众议院人数按各州的人口比例分配，各州人口数目指自由人总数加上所有其他人口（即奴隶）的五分之三，自由人总数不包括未被征税的印地安人。宪法第四条规定联邦中央政权和各州的各自权力。宪法第五条规定如有必要可以根据一定程序增添宪法的修正案，如1791年增添的修正案规定保证宗教信仰、言论出版、游行、自由

——摘编自《美利坚合众国宪法》

简析美国1787年宪法的积极意义和局限。

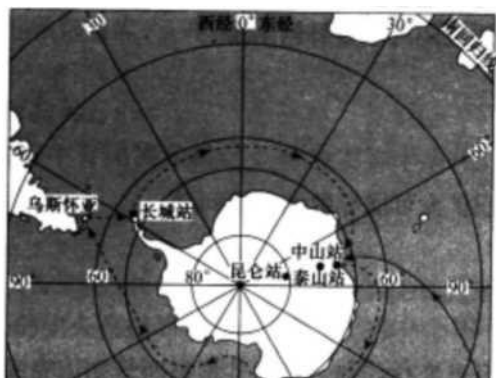
答案要点：

积极意义：体现了分权制衡原则，具有一定的民主性，奠定了美国政治制度的法律基础；使美国成为一个具有全国统一的中央政权的联邦制国家；是世界上第一部比较完整的资产阶级成文宪法，创立的政体后来被许多国家仿效。

局限：允许奴隶制存在，不承认黑人和印第安人具有和白人相同的权利；忽视了基本人权。

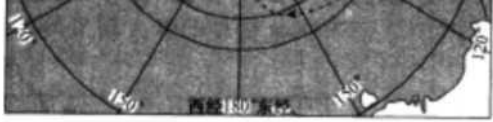
### 44、 阅读图文材料，完成下列要求。（12分）

2013年11月7日，“雪龙”号科考船从上海出发，开始第30次南极科考活动。12月19日，“雪龙”号在完成中山站卸货任务后起航，开始了首次环南极大陆航行（航线见图9）。北京时间2014年2月8日上午11点，五星红旗飘扬在雪白的冰原上，



我国在南极的第4个科学考察站泰山站建成。

化教教育



·科，雪\*編。域 布  
.....中H 第30次\_摄n 学f 察环角缓大 pysuh  
路 找

用 9

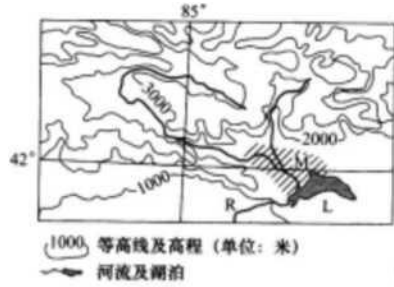
- (1) 推测泰山站建站过程中(2013年12月25日至2014年2月7日)当地正午太阳高度的变化。
- (2) 简述"雪龙"号环南极大陆航行选择图示航向的原因。
- (3) 指出在"雪龙"号环南极大陆航行期间，可能遭遇的自然风险。

答案要点：

- (1) 逐日降低。
- (2) 航线接近西风带与西风漂流区，顺风顺水(利于航行)。
- (3) 浮冰、冰山(或狂风巨浪、海雾等)。

45、阅读图文材料，完成下列要求。(13分)

图10示意的农业区(M)是我国某省级行政区重要的农业生产基地之一。1990—2010年，该农业区耕地面积不断扩大。L湖为该省级行政区最大的淡水湖。

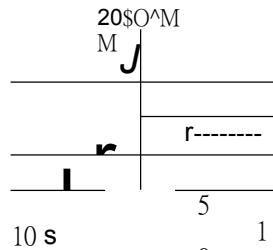


flio

- (1) 简析M地成为主要农业区的有利自然条件。
- (2) 指出R河流图示河段的流向与主要补给水源。
- (3) 简述该农业区耕地面积扩大可能导致的环境问题。

答案要点：

- (1) (地处冲积平原)地势平坦、土层深厚；接近水源区，水源较充足。
- (2) 流向：大致由东北流向西南。补给水源：湖泊水。
- (3) 环境问题：入湖水量减少，湖泊面积缩小，湖泊水质下降；土壤次生盐碱化。



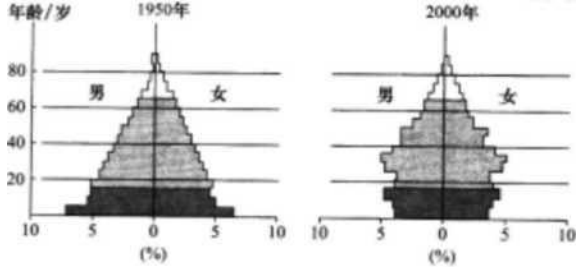
46、图11示意我国人口结构及其变化趋势。读图并根据所学知识完成下列要求。(10分)

人 n

劳动年龄  
人 a

年少人 a

(%)  
)



ra 11

- (1) 指出我国到 21 世纪中叶将面临的主要人口问题。
- (2) 简要说明缓解我国人口问题的主要途径。

答案要点：

- (1) 人口老龄化严重；年少人口减少；劳动年龄人口减少。
- (2) 适当提高人口出生率；优化人口结构；提高人口素质；健全社会保障体系。

化教文育